





数 1



だい数 3 しよー も でのる じゆぎよーあん



数 3



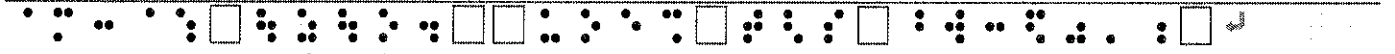
わーく しーと つーきん てあてわ どーなる？



つぎの けーすに ついて かん がえて みよー！



やま だ はなこ さんわ、 こんしゆん △ △ けんせつに



にゆーしゃ しました。 はたらく ときの じよーけんわ、



つぎの とおり でした。



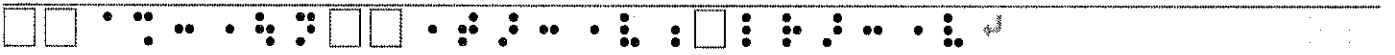
げつきゆー 数 174,000-えん



きんむ じかん 数 9 じから 数 18 じ | きゆーけい



数 1 じかん |



きゆー じつ どよー び、 にちよー び



ざんぎよー てあて ほーりつ どおり しきゆー



ほーなす まいとし 数 2 か げつ ぶん しきゆー



| 数 6 がつと 数 12 がつに わけて |



じゆーきよ てあて あ ぱーと まんしよんを かりる



ばあいわ つき 数 1 まんえん しきゆー






数 2



はなこ さんわ、 しゅーしょく かつ どー で その




かいしゃ が じ ぶんにと ても あうと おもい、 ちよつと



とおいの です が にゅーしゃを きめました。 じたくから



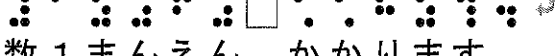
もよりに えきま で じてんしゃ で いき、 そこから



数 30 ぶん でんしゃに のつて かいしゃの ちかくの えきに



いきます。 まいつきの ていき だい が だいたい



数 1 まんえん かかります。




数 4 がつまつの さいしょの おきゅーりよー びに きゅーよ



めいさいを みた ところ、 つーきん てあて が はいって



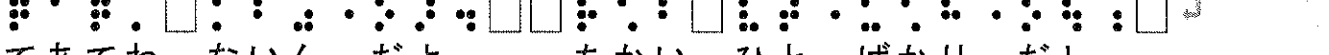
いません。 はなこ さんわ お だろいて じん じ



かちよーに ききました。 ーつーきん てあて が はいって



いないの です がー ーあー、 うちの かいしゃね、 つーきん



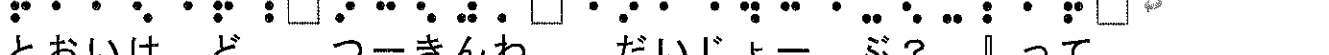
てあてわ ないん だよ。 ちかい ひと ばかり だし、



いっさくねん はいし されたん だ。 だから めんせつの



ときに 『やま だ さんわ じたくから かいしゃ が



とおいけ ど、 つーきんわ だいじょー ぶ? 』って

きいた でしょ？ー

はなこ さんわ、 それわ ーとおいけ ど がん ばって

かよえるか？ーと いう いみ だと おもってましたし、 そもそも

かいしゃに くる ためにわ でんしゃに のらなけれ ば

ならないの ですから、 もらえないのわ おかしいと

おもってます。 はなこ さんわ ほんとーに つーきん てあてを

もらえないの でしょーか？

とい はなこ さんわ つーきん てあて が っっ

もらえる・ もらえない

| 数 1 | あなた が そー かん がえた りゆーわ どー

いう もの ですか？

| 数 2 | ろー どー じょーけんを しっかり かくにん

す べきなのわ どー して でしょーか？ じゅぎょー で


まなん だ ことも ふまえて、 あなたなりに かん がえを

かいて みて く ださい。

| 数 3 | きょーの じゅぎょーの かんそーを じゆーに



数 4



かいて ください。



ねん がっ び ねん くみ なまえ

